

Школьный этап

Всероссийской олимпиады школьников

по Математике

Ученика (цы) \_\_\_\_\_ 4 класса

МОБУ Струговская \_\_\_\_\_ школы

Фамилия ученика (цы) Шербаткина

Имя ученика (цы) Александра

Отчество ученика (цы) Александровна

Число месяц и год рождения 2009, 06, 24

ФИО учителя, оказавшего помощь в подготовке  
к олимпиаде

Коричева Елена Александровна

29.05.2023

11




Всероссийская олимпиада школьников.


Школьный этап. 7-8 классы.

2022-2023 учебный год

На выполнение всех заданий Вам отводится 135 минут.

1. Угадайте специфику архитектурных построек различных эпох: тип постройки и период создания. Выберите правильный ответ.

Изображение	Тип постройки	Период создания
	<p>1. <input checked="" type="radio"/> Пирамида; 2. <input type="radio"/> Зиккурат; 3. <input type="radio"/> Мостаба;</p> <p style="text-align: center;">+</p>	<p>1. Древняя Мексика; 2. Древний Китай; 3. <input checked="" type="radio"/> Древняя Месопотамия;</p> <p style="text-align: center;">+</p>
	<p>1. Амфипростиль; 2. Простиль; 3. <input checked="" type="radio"/> Периптер;</p> <p style="text-align: center;">+</p>	<p>1. <input type="radio"/> Древняя Греция; 2. <input checked="" type="radio"/> Древний Рим; 3. <input type="radio"/> Древняя Индия;</p> <p style="text-align: center;">+</p> <p style="text-align: right;">125</p>
	<p>1. Ступа; 2. <input type="radio"/> Пагода; 3. <input checked="" type="radio"/> Пещерный храм;</p> <p style="text-align: center;">+</p>	<p>1. Древняя Мексика; 2. <input checked="" type="radio"/> Древний Китай; 3. <input type="radio"/> Древняя Русь;</p> <p style="text-align: center;">+</p>

	<p>1. Крестовокупольный храм; 2. Пагода; 3. Базилика;</p> <p style="text-align: center;">+</p>	<p>1. Древняя Русь; 2. Средневековая Западная Европа; 3. Средневековый Китай;</p> <p style="text-align: center;">+</p>
---	--	--

2. Найдите «лишнее» в ряду. Подчеркните, кратко обоснуйте свой выбор.

1. «Руслан и Людмила», «Борис Годунов», «Снегурочка», «Золотой петушок».

*В сказке говорится о золотом петушке золотой гребешок*

2. Мадонна Литга, Возвращение блудного сына, Мадонна Бенуа, Джоконда.

25

3. Архитектура, скульптура, пейзаж, декоративно-прикладное искусство.

*Скульптура*

4. «33 коровы», «Трус не играет в хоккей», «До свидания, Москва», «Надежда».

3. Соотнесите понятия и их определения

Понятие	Определение
1. Интерпретация	А. Музыкальный номер для солирующего голоса с инструментальным сопровождением в опере, кантате, оратории
2. Пролог	Б. Закономерное соотношение

	величин частей художественного произведения между собой. А также каждой части с произведением в целом
3. Ария	В. Вступление к музыкальному или литературному произведению
4. Пропорция	Г. Разъяснение, истолкование художественного произведения в творческом процессе исполнения
5. Пейзаж	
6. Фронтон	

А	Б	В	Г
6 -	4 +	3 -	2 -

4. Расшифруйте названия памятников архитектуры и стран им соответствующих, заполните таблицу. К культуре какой страны они имеют отношение?

Сооружение	Страна	Время создания
иевекли идыраймп + <u>Великие пирамиды</u>	петеги + <u>Египет</u>	
карпольо	ециряг + <u>Греция</u>	
чума чукип	пупе + <u>Перу</u>	
дажтхалма	яниди + <u>Индия</u>	
якуцкзнеа стькрпое + <u>Кузнецкая крепость</u>	Яроси + <u>Россия</u>	

5. Внимательно рассмотрите данное произведение искусства.



1. Напишите название картины

Витя на растуль 15

2. Напишите полное имя художника – автора картины

К. Васнецов. 15

3. Опишите общую композицию картины

55. На переднем плане стоит

Вокруг раскиданы острые камни у лошади одеты доспехи лошадь по цвету белая; у воина встё оружие (лук) воин одет тоже в доспехи и шлем; вокруг чист прогаревшая трава (жёлтая); погода у картины сумрач, видно что воин грустит когда читает надпись на камне.

4. Назовите значимые запоминающиеся детали картины и их место в композиции

55. Под коницами лошади лежат кости на переднем плане стоит камень где написано надпись; у воина в руке катана на спине висит щит; вокруг лежат верени.

35. 5. Определите общее настроение картины

Грустное потому что тут драма война и некоторые погиблы.

---

---

---

6. Укажите 3 известные работы этого же художника

*каблёр самолётов. 25*

---

---

---