

Школьный этап

Всероссийской олимпиады школьников

по географии

Ученика (ны) 9 класса

МОБУ Средневековская СОШ школы

Фамилия ученика (ны) Фрауни

Имя ученика (ны) Евгеньевы

Отчество ученика (ны) Александрович

Число месяц и год рождения 15.03.2007

ФИО учителя, оказавшего помощь в подготовке
к олимпиаде

Жикова Мария Михайловна.

680
2

13

Всероссийская олимпиада школьников.

Школьный этап. 9-11 классы.

2022-2023 учебный год

На выполнение всех заданий Вам отводится 120 минут.

I. Теоретический тур

Задание 1.

Процесс инвазии (от лат. *invasio* – нашествие, нападение), или вселения живых организмов, в настоящее время является частью глобальных изменений биосферы и затрагивает все царства живой природы и все регионы Земли. Выполните задания, посвященные этому процессу. Заполните пропуски в тексте (числа в скобках) словами или словосочетаниями из представленного ниже перечня слов.

В (1) инвазией называют проникновение живых организмов в (2), находящиеся за пределами их естественного (3). Важно понимать, что инвазия, в отличие от (4), происходит без участия человека, и универсальные способы по остановке вторжения агрессивных видов отсутствуют.

Согласно подписанной в Рио-де-Жанейро Конвенции о биологическом (5), страны обязаны разрабатывать меры по предотвращению инвазий и смягчению всех их последствий: вторжение видов может наносить значительный экономический ущерб и представлять опасность для здоровья людей. (6) виды вызывают серьезные экологические последствия, нанося вред (2) и больше всего подвергая угрозе уникальные местные (7) виды, из-за чего биологическое видовое разнообразие запасы природных биологических ресурсов в таких трансформированных (2) часто резко сокращается.

Слова: а) аллохтонный; б) ареал; в) биогеография; г) викариат; д) геология; е) заповедник; ё) загрязнение; ж) инвазионный; з) интродукция; и) космополитический; к) разнообразие; л) симбиотический; м) селитебная зона; н) сукцессия; о) оружие; п) экологический след; р) экосистема; с) экотон; т) эндемичный; э) эпидемиология

1	2	3	4	5	6	7
в	р	с	з	б	л	и
д	л		л			

Задание 2.

Этот самый глубокий континентальный водоем содержит пятую часть запасов пресных вод на Земле (без ледников). Более 300 рек впадают в него, а вытекает только одна. У ее истока располагается поселок, в котором еще в 1920-х годах был открыт стационар по его изучению.

Назовите этот водоем, реку из него вытекающую, 2 субъекта федерации, на территории которых он находится.

Ответ: Байкал¹. Из Байкала вытекает² река Ангара.
Байкал находится на территории Республики Бурятия и города Иркутск.

Задание 3.

Определите географические объекты по координатам, пользуясь контурной картой (прилагается):


а) 56° с.ш., 93° в. д.; б) 43° с.ш., 42° в. д.; в) 73° с.ш., 127° в.д.; г) 56° с.ш., 49° в.д.; д) 67° с.ш., 69° в.д.; е) 71° с.ш., 179°з.д.; ж) 50° с.ш., 143° в.д.; з) 52° с.ш., 104° в.д.; и) 69° с.ш., 50° в.д.; к) 49° с.ш., 44° в.д.; л) 65° с.ш., 60° в. д.; м) 70° с.ш., 85° в.д.; н) 50° с.ш., 87° в.д.; о) 53° с.ш., 141° в.д.; п) 43°с.ш., 132° в.д.

Разделите их на группы: полуострова, острова, моря, озера. Ответ оформите в виде таблицы.

Административные центры, столицы субъектов РФ	Острова	Вершины	Устье Реки
2	е	б	а
3	ж	г	в
к	о	ч	к
н	и	н	м

Задание 4.

Определите по изображению особо охраняемую природную территорию (ООПТ) России. Ответьте на дополнительные вопросы.



Дополнительные вопросы:

- 1) На территории какого субъекта/субъектов РФ находится ООПТ?
- 2) Какой статус этой ООПТ?
- 3) Назовите три природные и культурно-исторические достопримечательности, которые находятся в пределах данной ООПТ?
- 4) В пределах какой природной зоны расположен ООПТ?
- 5) В пределах какого климатического пояса и области расположен данный объект?
- 6) В пределах какой тектонической структуры расположен данный объект? Какого она геохронологического возраста?

Ответ: На изображении Сихоте-Алиньский заповедник. Он находится на территории Приморского края. Статус заповедника: биосфер-

45
45

4б
4б
4б

ный резерват. На его территории находятся достопримечательности: горы Лысая, мыс Страшный, бухта Русская и Бухта Терней. Он расположен в пределах области высотной поясности. Объект расположен в умеренном поясе, на территории муссонных климатов. ООПТ расположен в пределах Мезозойской области складчатости, её возраст 160 - 70 млн лет.

II. Тестовый тур

1. По численности населения Россия опережает

- а) Бразилию и Индонезию;
- б) Индонезию и Японию;
- в) Японию и Австралию;
- г) Австралию и Индию.

2б
 Б

2. Значительная часть верующих исповедует ислам в

- а) Туве, Якутии;
- б) Чечне, Татарстане;
- в) Карелии, Чечне;
- г) Калмыкии, Туве.

2б
 Б

3. Какие этнонимы НЕ встречаются в названиях субъектов Российской Федерации?

- а) калмыки;
- б) удмурты;
- в) чукчи;
- г) казахи;
- д) коряки;
- е) долганцы.

1б

<input type="checkbox"/> Б	<input type="checkbox"/>	<input type="checkbox"/> Е
----------------------------	--------------------------	----------------------------

4. Бергштрихи на топографической карте указывают направление:

- а) вниз по склону;
- б) вверх по склону;

- в). на север;
г) истинного меридиана.

25
а

5. Определите фактор размещения, оказывающий влияние на концентрацию нефтеперерабатывающих заводов в Европейской части России:

- 1) сырьевой;
2) потребительский;
3) экологический;
4) трудовых ресурсов.

0
в

6. Выберите город, расположенный севернее Полярного круга:

- а) Анадырь;
– б) Архангельск;
– в) Якутск;
г) Мурманск.

2
г

7. Выберите вариант, где указанные географические объекты относятся к одному океану:


- а) остров Рудольфа, пролив Вилькицкого, Белое море, Пенжинская губа;
б) Гданьский залив, Азовское море, полуостров Канин Нос, Керченский пролив;
в) Кунаширский пролив, залив Шелихова, Командорские острова, Японское море;
г) Финский залив, пролив Лаперуза, остров Врангеля, Баренцево море.

0
а

8. Для защиты животных во многих странах разработаны дорожные знаки, предупреждающие водителей и призывающих их к бдительности. Популяция слонов за последние 100 лет резко сократилась. Даже в одной из стран, где слон является официальным национальным животным, его общая численность сократилась за этот период в 20 раз – до примерно 5 тысяч особей. Поэтому предупреждение о возможном их появлении надороге воспринимается местными нормально. В какой из перечисленных стран размещен следующий знак:

- 25
а) Австралия;
б) Бразилия;
в) Таиланд;
г) Папуа-Новая Гвинея.

в



9. Сопоставьте коренные малочисленные народы России с водными объектами, на берегах которых они компактно проживают.

1. Вепсы
2. Эвены
3. Чукчи
4. Ненцы
5. Эвенки
6. Тувинцы-тоджинцы

- А. р. Яна
- Б. р. Нижняя Тунгуска
- В. Онежское озеро
- Г. р. Анадырь
- Д. р. Большой Енисей (Бий-Хем)
- Е. Обская губа Карского моря

125

1	2	3	4	5	6
В	А	Г	Е	Б	Д

1 2 2 2 2 2

10. Установите соответствие между именами ученых-географов и их вкладом в развитие географической науки:

Ученые-географы

- 1) Вернадский В.И.
- 2) Обручев В.А.
- 3) Докучаев В.В.

Вклад в развитие географической науки

- А) изучал геологическое строение и полезные ископаемые России;
- Б) создал учение о почвах и закономерностях их распространения;
- В) основатель геохимии и учения о биосфере;
- Г) исследовал климаты Земли.

25

1	2	3
А	Г	Б

11. Установите соответствие между странами и регионами, в которые они входят:

- 1) Западная Африка
- 2) Восточная Африка
- 3) Южная Африка
- 4) Центральная Африка

- А) Эфиопия;
- Б) Мали;
- В) Намибия;
- Г) Демократическая Республика Конго.

25

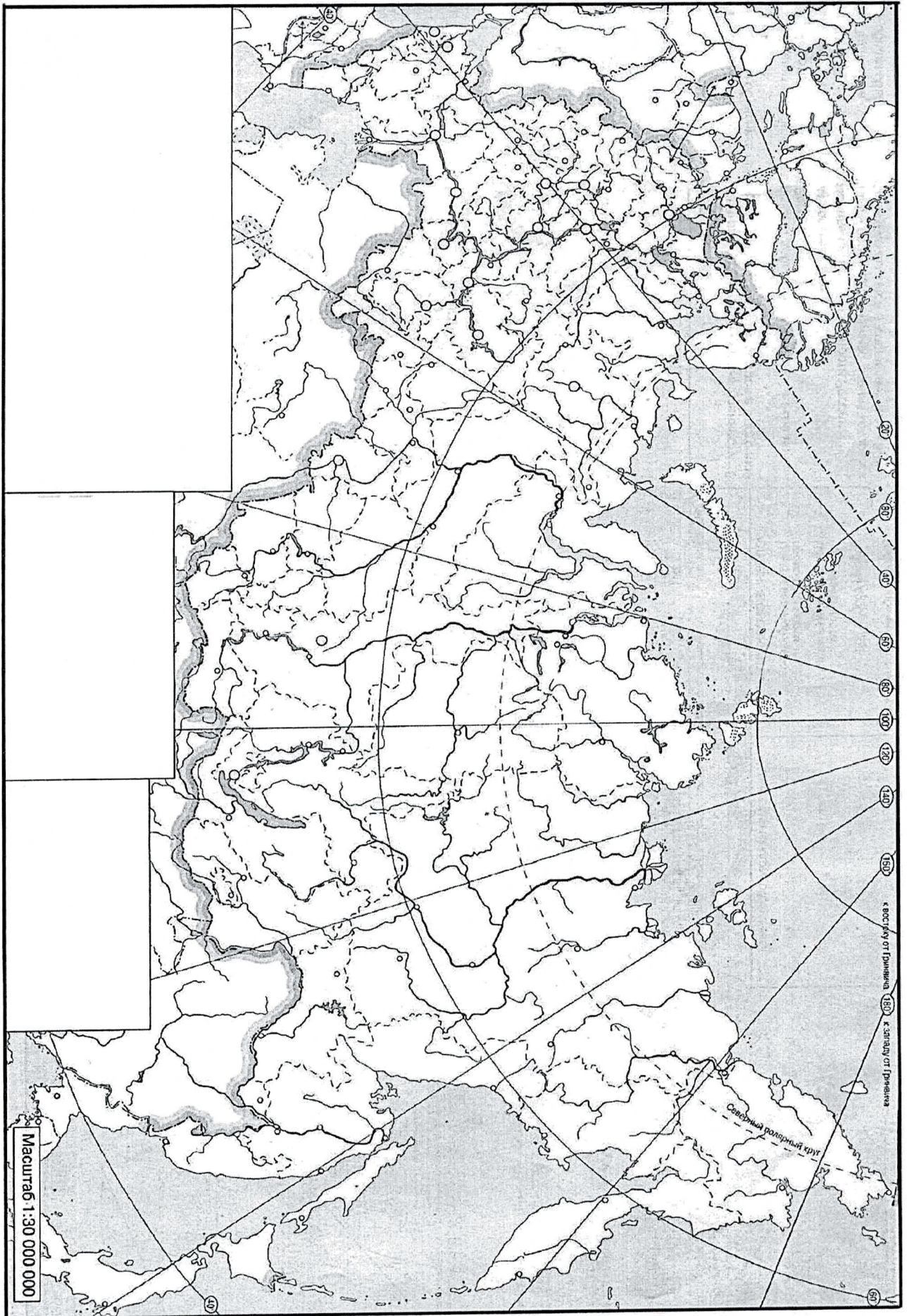
1	2	3	4
В	А	Г	Б

12. Расположи эти города с запада на восток:

- 1) Якутск; 2) Магадан; 3) Челябинск; 4) Самара; 5) Воронеж; 6) Смоленск; 7) Охотск; 8) Анадырь.

85

6	5	4	3	1	7	2	8
1	1	1	1	1	1	1	1



Мащтаб 1:30 000 000

« восток от Гринвича 150° к западу от Гринвича