

ТИТУЛЬНЫЙ ЛИСТ

Всероссийская олимпиада школьников

Школьный этап

Заполняется ПЕЧАТНЫМИ БУКВАМИ чернилами черного или синего цвета по образцам:

А	Б	В	Г	Д	Е	Ж	З	И	К	Л	М	Н	О	П	Р	С	Т	У	Ф	Х	Ц	Ч	Ш	Щ	Ъ	Ы	Ь	Э	Ю	Я	@	8	9	,
A	B	C	D	E	F	G	H	I	J	K	L	M	N	O	P	Q	R	S	T	U	V	W	X	Y	Z	1	2	3	4	5	6	7	0	.

ПРЕДМЕТ

Физкультура

КЛАСС 8

ДАТА

26 . 08 . 2023

ШИФР УЧАСТНИКА

9

ФАМИЛИЯ

Долматов

ИМЯ

Данил

ОТЧЕСТВО

АЛЕКСАНДРОВ

Документ удостоверяющий личность

свидетельство о рождении

паспорт

Гражданство

Российская
Федерация

серия

номер

Иное

Дата рождения

25 . 07 . 2009

Муниципалитет

С Ступоловка

Сокращенное наименование образовательной организации (школы), город (поселок, село)

Октябрьский округ
МОБУ Ступоловская ООШ

Сведения о педагогах-наставниках

1. Фамилия

Жукова

Имя

Валентина

Отчество

Николаевна

+

2.

Личная подпись участника

Дору

Все поля обязательны к
заполнению!

110

Всероссийская олимпиада школьников
Школьный этап 2023-2024 уч. год
7-8 класс
Теоретико-методическое задание

Шифр 9

БЛАНК ОТВЕТОВ

№ вопроса	Варианты ответов				№ вопроса	Варианты ответов			
1	а	б	в	г	8	а	б	в	г
2	а	б	в	г	9	а	б	в	г
3	а	б	в	г	10	а	б	в	г
4	а	б	в	г	11	а	б	в	г
5	а	б	в	г	12	а	б	в	г
6	а	б	в	г	13	а	б	в	г
7	а	б	в	г	14	а	б	в	г

15. шляк и лют

17. замена

16. замена 2

18. б. л. и

19.

1	2	3	4	5	6
в	2	е	2	д	б

20.

1	2	3	4	5
лыжные коньки	борьба	лыжные двоеборье	фигурное катание	Кёрлинг
6	7	8	9	10
лёгкая атлетика	бобслей	велосипедная гонка	бег с препятствиями	биатлон

Оценка (слагаемые и сумма) +++++-----+++++

Подписи и ФИО членов жюри _____

**Всероссийская олимпиада школьников
по предмету «Физическая культура»
Школьный этап 2023 – 2024 учебный год
7 – 8 класс**

Инструкция по выполнению задания

Вам предлагаются задания, основанные на содержании образовательных программ основного общего и среднего общего образования углубленного уровня по предмету «Физическая культура».

Задания объединены в 4 группы:

1. Задания в закрытой форме №№ 1-14, то есть с предложенными вариантами ответов. Задания представлены в форме незавершенных утверждений, которые при завершении могут оказаться либо истинными, либо ложными. При выполнении этих заданий необходимо выбрать правильное завершение из предложенных вариантов. Правильным является то, которое наиболее полно соответствует смыслу утверждения.

Выбранные варианты отмечаются зачеркиванием соответствующего квадрата в бланке ответов: «а», «б», «в» или «г», например:

1 а б в г

Внимательно читайте задания и предлагаемые варианты ответов. Старайтесь не угадывать, а логически обосновывать сделанный Вами выбор. Пропускайте незнакомые задания. Это позволит сэкономить время для выполнения других заданий. Впоследствии Вы сможете вернуться к пропущенному заданию.

2. Задания в открытой форме №№ 15-18, то есть без предложенных вариантов ответов. При выполнении этого задания необходимо самостоятельно подобрать определение, которое, завершая высказывание, образует истинное утверждение. Подбранное определение вписывайте в соответствующую графу бланка ответов печатными буквами.

3. Задание № 19 на установление правильной последовательности действий на уроке физической культуры в школе.

4. Задания на «соответствие» № 20, в котором необходимо установить соответствие предложенных вариантов ответов определенным понятиям и определениям. Ответы вписывайте в соответствующую графу бланка ответов

Время выполнения заданий – 45 минут.

Контролируйте время выполнения задания.

Будьте внимательны, делая записи в бланке ответов.

Если в ответе содержатся орфографические ошибки, то ответ считается

НЕПРАВИЛЬНЫМ.

Все исправления и зачеркивания квалифицируются как

НЕПРАВИЛЬНЫЙ ответ.

ТЕОРЕТИКО-МЕТОДИЧЕСКОЕ ЗАДАНИЕ

7-8 класс

Задания в закрытой форме

1. Первым членом Международного олимпийского комитета для России был выбран...

- а. Г.И. Рибопьер;
- б. А.Д. Бутовский;
- в. Н.А. Панин-Коломенкин;
- г. В.И. Срезнетевский.

2. Какому древнегреческому герою мифы приписывали учреждение древних Олимпийских игр?

- а. Геракл;
- б. Тесей;
- в. Ахиллес;
- г. Персей.

3. Паралимпийские игры проводятся, начиная с ...

- а. 1960 года;
- б. 1972 года;
- в. 1980 года;
- г. 1988 года.

4. Полоса препятствий используется для воспитания...

- а. выносливости;
- б. ловкости;
- в. силы;
- г. гибкости.

5. С помощью какого теста не определяется физическое качество выносливость?

- а. бег 100 метров;
- б. лыжная гонка 3 км;
- в. плавание 800 метров;
- г. шестиминутный минутный бег.

6. Назовите размеры баскетбольной площадки для официальных соревнований ФИБА?

- а. 28 м × 14 м;
- б. 28 м × 15 м;
- в. 30 м × 15 м;
- г. 32 м × 16 м.

7. До какого возраста необходимо заниматься физическими упражнениями?

- а. до 18 лет;
- б. до 45 лет;
- в. до 60 лет;
- г. всю жизнь.

8. С какого числа начинается нумерация игроков в баскетболе?

- а. с 1;
- б. с 2;
- в. с 3;
- г. с 4.

9. Недостаток какого витамина ведёт к ухудшению зрения и может стимулировать возникновение так называемой «куриной слепоты»?

- а. «А»;
- б. «В1»;
- в. «С»;
- г. «Д»;

10. Какие команды подаются судьей на старте бега на 3000 метров?

- а. «Внимание! Марш!»;
- б. «На старт! Внимание! Марш!»;
- в. «На старт! Марш!»;
- г. «Приготовиться! Марш!».

11. Определите результат участника соревнований в лыжных гонках с раздельным стартом, выступавшего под номером 16, если старт был одиночным через 30 с, а его время финиша равно 39 мин:

- а. 23.00;
- б. 31.00;
- в. 36.30;
- г. 45.00.

12. Освоение двигательного действия следует начинать с...

- а. выполнение двигательного действия в упрощенной форме и в замедленном темпе;
- б. устранения ошибок при выполнении подготовительных и подводящих упражнений;
- в. формирования представления об общем смысле данного способа решения двигательной задачи;
- г. формирование связей между двигательными центрами, действующими в данном действии.

13. В каком виде спорта проявили себя Мария Шарапова, Светлана Кузнецова, Михаил Южный, Николай Давыденко?

- а. плавание;
- б. теннис;
- в. спортивная гимнастика;
- г. легкая атлетика.

14. Физкультминутки применяются с целью ...

- а. активного отдыха;
- б. пассивного отдыха;
- в. соблюдения режима дня;
- г. развития физических качеств.

Задания в открытой форме

15. Конечной целью шахматной игры является *победа и ничья*

16. В волейболе игрок, находящийся в 1-й зоне, при «переходе» перемещается в зону ... *2*

17. Выход запасного игрока на площадку вместо игрока основного состава в волейболе обозначается как ... *замена*

18. Правила баскетбола при ничейном счете в основное время предусматривают дополнительный период продолжительностью ... *5 минут*







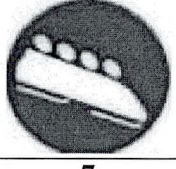



Задание на установление правильной последовательности

19. Расположите представленные мячи в порядке увеличения их размеров. Ответ буквами запишите в бланке ответов.

- а. теннисный мяч;
- б. баскетбольный мяч;
- в. мяч для гольфа;
- г. гандбольный мяч;
- д. футбольный мяч;
- е. фитбол.

Задание на «соответствие»

20. Напишите в бланке ответов название олимпийских видов спорта, изображенных на пиктограммах.

				
1	2	3	4	5
				
6	7	8	9	10

Вы выполнили задание.

Поздравляем!